

Fiche 4 - Tracer les aiguilles - demi-heures

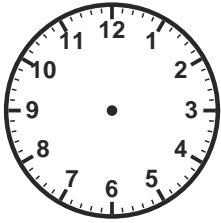
Trace les aiguilles pour indiquer l'heure demandée

Nom : _____

Date : _____


Consigne : pour chaque cadran, trace les aiguilles afin d'indiquer l'heure écrite dessous.

Pour une demi-heure : grande aiguille sur le 6, petite aiguille entre les deux chiffres voisins.




(1)

il est 3 h 30




(2)

il est 6 h 30




(3)

il est 9 h 30



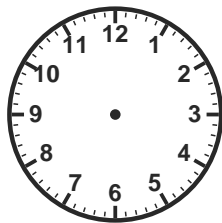
(4)

il est 12 h 30




(5)

il est 1 h 30




(6)

il est 4 h 30



(7)

il est 7 h 30



(8)

il est 11 h 30

Astuce : commence toujours par la grande aiguille (sur le 6 pour une demi-heure).

Fiche 4 - Tracer les aiguilles - demi-heures

Trace les aiguilles pour indiquer l'heure demandée

Corriges

Position des aiguilles (demi-heures) :

1. il est 3 h 30 : grande aiguille sur 6, petite entre 3 et 4.
2. il est 6 h 30 : grande aiguille sur 6, petite entre 6 et 7.
3. il est 9 h 30 : grande aiguille sur 6, petite entre 9 et 10.
4. il est 12 h 30 : grande aiguille sur 6, petite entre 12 et 1.
5. il est 1 h 30 : grande aiguille sur 6, petite entre 1 et 2.
6. il est 4 h 30 : grande aiguille sur 6, petite entre 4 et 5.
7. il est 7 h 30 : grande aiguille sur 6, petite entre 7 et 8.
8. il est 11 h 30 : grande aiguille sur 6, petite entre 11 et 12.