

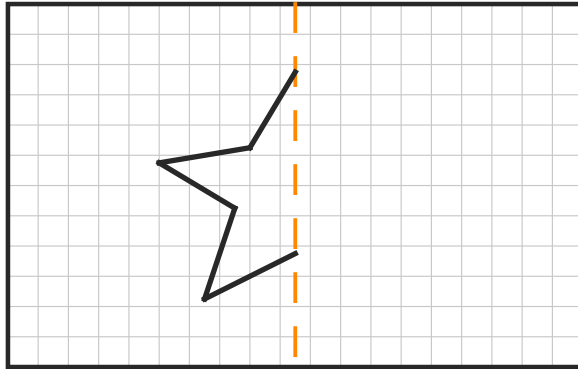
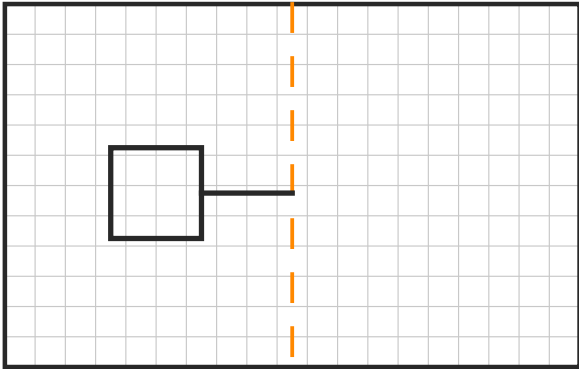
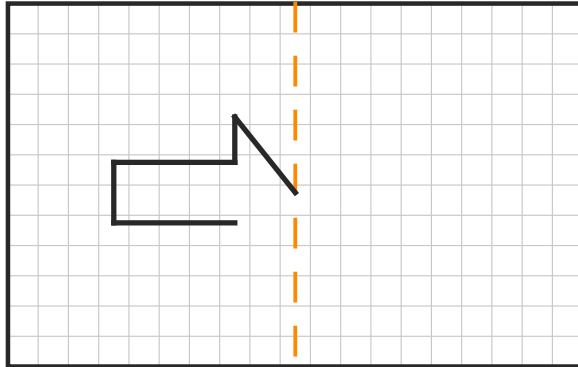
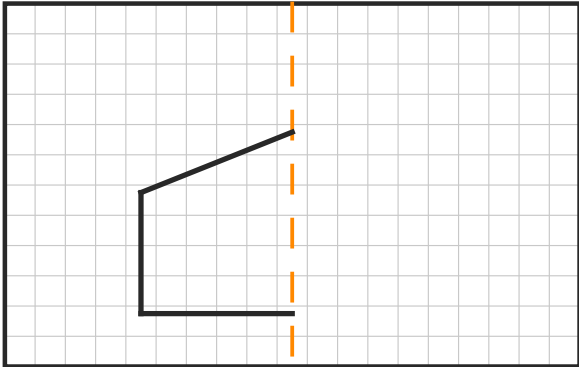
# Fiche 4 - Symetrie axiale - Complete

Termine le dessin pour qu'il soit symetrique

Nom : \_\_\_\_\_

Date : \_\_\_\_\_

**Consigne : la ligne en pointilles est l'axe de symetrie. La moitie gauche est dessinee.  
Trace la moitie droite pour que le dessin soit symetrique (comme dans un miroir).**



*Astuce : compte les carreaux a gauche, puis reproduis le meme nombre a droite.*