

Fiche 3 - Reconnaître les demi-heures

Observe chaque cadran et écris l'heure


Nom : _____

Date : _____

Consigne : la grande aiguille pointe sur le 6 = il est et demie. La petite aiguille est entre deux chiffres : on prend le plus petit. Exemple : si la petite est entre 3 et 4, il est 3 h 30.




(1)



(2)



(3)




(4)




(5)



(6)



(7)



(8)

Astuce : grande aiguille sur 6 = il est et demie (30 minutes après l'heure).

Fiche 3 - Reconnaître les demi-heures

Observe chaque cadran et écris l'heure

Corriges

Reponses :

1. il est 2 h 30
2. il est 5 h 30
3. il est 8 h 30
4. il est 11 h 30
5. il est 1 h 30
6. il est 7 h 30
7. il est 4 h 30
8. il est 10 h 30