

Fiche 2 - Compter les cotes et les sommets


Observe chaque forme et complete

Nom : _____

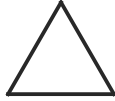
Date : _____

Consigne : pour chaque forme, ecris le nombre de cotes et le nombre de sommets.

Un cote = un trait droit. Un sommet = un coin (la ou deux cotes se rejoignent).




(1)



(2)



(3)



(4)




(5)



(6)



(7)



(8)

Tableau a remplir

Forme	Nom	Nb de cotes	Nb de sommets
1			
2			
3			
4			
5			
6			
7			
8			

Fiche 2 - Compter les cotes et les sommets

Observe chaque forme et complete

Corriges

Forme	Nom	Cotes	Sommets
1	carre	4	4
2	triangle	3	3
3	rectangle	4	4
4	rond	0	0
5	triangle	3	3
6	carre	4	4
7	rectangle	4	4
8	rond	0	0