

Fiche 1 - Reconnaître les heures pleines


Observe chaque cadran et écris l'heure

Nom : _____

Date : _____

Consigne : la grande aiguille pointe sur le 12, la petite aiguille indique l'heure pile.


Pour chaque cadran, écris l'heure dans le cadre dessous (exemple : 3 h).



(1)



(2)



(3)




(4)




(5)



(6)



(7)



(8)

Astuce : la petite aiguille = l'heure. La grande aiguille sur le 12 = pile.

Fiche 1 - Reconnaître les heures pleines

Observe chaque cadran et écris l'heure

Corriges

Reponses :

1. il est 3 h
2. il est 7 h
3. il est 9 h
4. il est 12 h
5. il est 5 h
6. il est 1 h
7. il est 10 h
8. il est 6 h